

2. Неисправна система выпуска отработавших газов.

3. Неисправна рабочая тормозная система.

37. Какие внешние световые приборы Вы должны использовать при движении в темное время суток на освещенных участках дорог населенного пункта?

1. Только ближний свет фар.

2. Ближний свет фар или габаритные огни.

3. Только габаритные огни.

38. В каких случаях при организованной перевозке групп детей должен быть включен ближний свет фар в светлое время суток?

1. Только при движении вне населенных пунктов.

2. Только при движении в организованной колонне.

3. Во всех случаях, когда осуществляется перевозка.

39. Как Вы можете в светлое время суток привлечь внимание водителя обгоняемого автомобиля при движении в населенном пункте?

1. Только звуковым сигналом.

2. Только кратковременным переключением фар с ближнего света на дальний.

3. Любым из перечисленных способов, включая совместную подачу сигналов.

40. Какие внешние световые приборы должны быть включены при посадке детей в транспортное средство, имеющее опознавательные знаки "Перевозка детей", и высадке из него?

1. Включать внешние световые приборы нет необходимости.

2. Ближний свет фар или противотуманные фары.

3. Аварийная световая сигнализация.

4. Только габаритные огни.

41. В каком случае водитель автомобиля имеет преимущество перед другими участниками движения?

1. Только при включенном проблесковом маячке оранжевого или желтого цвета.

2. Только при включенном проблесковом маячке синего или бело-лунного цвета.

3. Только при включенном проблесковом маячке синего (синего и красного) цвета.

4. Только при включенных проблесковом маячке синего (синего и красного) цвета и специальном звуковом сигнале.

42. Какие внешние световые приборы должны быть включены на буксирующем транспортном средстве при движении в светлое время суток?

1. Ближний или дальний свет фар.

2. Ближний свет фар или противотуманные фары.

3. Габаритные огни.

43. На каком расстоянии до встречного транспортного средства Вы должны переключить дальний свет на ближний?

1. По усмотрению водителя.
2. Не менее чем за 300 м.
3. Не менее чем за 150 м.

44. При остановке и стоянке на неосвещенных участках дорог в темное время суток Вы должны:

1. Выставить знак аварийной остановки.
2. Включить габаритные огни.
3. Включить ближний свет фар.

45. При остановке и стоянке опознавательный знак "Автопоезд" должен быть включен:

1. В темное время суток и в условиях недостаточной видимости независимо от наличия искусственного освещения.
2. Только в условиях недостаточной видимости.
3. Только в темное время суток при отсутствии искусственного освещения.

46. Двигаясь в темное время суток вне населенного пункта с дальним светом фар, Вы догнали движущееся впереди Вас транспортное средство. Ваши действия?

1. Оставьте включенными габаритные огни, выключив дальний свет фар.
2. Переключите дальний свет фар на ближний.
3. Допускаются оба варианта действий.

47. Обязаны ли Вы переключить дальний свет на ближний, если водитель встречного транспортного средства периодическим переключением фар покажет необходимость этого?

1. Не обязаны.
2. Обязаны, только если расстояние до встречного транспортного средства менее 150 м.
3. Обязаны, даже если расстояние до встречного транспортного средства более 150 м.

48. Как следует обозначить буксируемый автомобиль при отсутствии или неисправности аварийной световой сигнализации?

1. Включить габаритные огни.
2. Включить задние противотуманные фонари.
3. Установить на задней части буксируемого автомобиля знак аварийной остановки.

49. В каких случаях разрешено применять звуковые сигналы в населенных пунктах?

1. Только для предотвращения дорожно-транспортного происшествия.
2. Только для предупреждения о намерении произвести обгон.
3. В обоих перечисленных случаях.

50. Какие внешние световые приборы должны быть включены в светлое время суток на транспортном средстве, перевозящем крупногабаритные или тяжеловесные грузы?

1. Ближний или дальний свет фар.
2. Ближний свет фар или противотуманные фары.
3. Габаритные огни.

51. Какие внешние световые приборы Вы можете использовать при движении в темное время суток на неосвещенных участках дорог?

1. Только ближний свет фар.
2. Только дальний свет фар.
3. Ближний или дальний свет фар.

52. При движении в условиях недостаточной видимости Вы можете использовать противотуманные фары:

1. Только совместно с ближним или дальним светом фар.
2. Как отдельно, так и совместно с ближним или дальним светом фар.
3. Только отдельно от ближнего или дальнего света фар.

53. При движении в темное время суток на неосвещенных участках дорог Вы можете использовать противотуманные фары:

1. Только совместно с ближним или дальним светом фар.
2. Как отдельно, так и совместно с ближним или дальним светом фар.
3. Только отдельно от ближнего или дальнего света фар.

54. Вы можете использовать задние противотуманные фонари:

1. Только в условиях недостаточной видимости.
2. Только при движении в темное время суток.
3. В обоих перечисленных случаях.

55. Как Вы можете в светлое время суток привлечь внимание водителя обгоняемого автомобиля при движении вне населенного пункта?

1. Только кратковременным переключением фар с ближнего света на дальний.
2. Только звуковым сигналом.
3. Любым из перечисленных способов, включая совместную подачу этих сигналов.


56. Какие внешние световые приборы должны быть включены в тоннеле с искусственным освещением?

1. Фары ближнего света или габаритные огни.
2. Фары ближнего света или дневные ходовые огни.
3. Габаритные огни и дневные ходовые огни.
4. Фары ближнего или дальнего света.

57. Включение каких внешних световых приборов обеспечит Вам наилучшую видимость дороги при движении ночью во время сильной метели?

1. Противотуманных фар совместно с дальним светом фар.
2. Противотуманных фар совместно с ближним светом фар.

58. Какие внешние световые приборы должны быть включены в светлое время суток на транспортных средствах, движущихся в организованной колонне?



1. Габаритные огни.
2. Ближний или дальний свет фар.
3. Ближний свет фар или противотуманные фары.

59. Вы можете использовать противотуманные фары совместно с ближним или дальним светом фар:

1. Только в темное время суток на неосвещенных участках дорог.
2. Только в условиях недостаточной видимости.
3. В обоих перечисленных случаях.

60. В каких случаях вы не должны подавать предупредительный сигнал указателями поворота?

1. Только если сигнал может ввести в заблуждение других участников движения.
2. Только при отсутствии на дороге других участников движения.
3. В обоих перечисленных случаях.

61. Как Вы должны поступить при ослеплении Вас дальним светом фар встречных или попутно движущихся транспортных средств?

1. Остановиться подавая звуковой сигнал.
2. Принять вправо (в сторону обочины) и остановиться.
3. Включить аварийную сигнализацию и, не меняя полосы движения, снизить скорость и остановиться.

62. Дает ли Вам преимущество в движении подача сигнала указателями поворота?

1. Да.
2. Нет.
3. Да, но только при завершении обгона.

63. Разрешается ли использовать в светлое время суток противотуманные фары вместо ближнего света фар при движении в тоннеле?

1. Разрешается, только в тоннелях с искусственным освещением.
2. Не разрешается.
3. Разрешается.

64. Какие внешние световые приборы должны быть включены на транспортном средстве при движении в светлое время суток?

1. Только дневные ходовые огни.
2. Только фары ближнего света.
3. Только противотуманные фары.
4. Любые из перечисленных.

65. Должны ли Вы подавать сигналы указателями поворота при маневрировании на территории автостоянки или АЗС?

1. Да.
2. Нет.



3. Да, только при наличии в непосредственной близости других транспортных средств.

66. Достаточно ли в светлое время суток включение дневных ходовых огней для обозначения транспортного средства при движении в тумане?

1. Достаточно.
2. Недостаточно.

67. Обязаны ли Вы подавать сигналы указателями поворота при начале движения в жилой зоне, обозначенной соответствующим знаком?

1. Да, только при наличии в непосредственной близости пешеходов.
2. Нет.
3. Да.

68. В темное время суток и в условиях недостаточной видимости опознавательный знак "Автопоезд" должен быть включен:

1. Только при движении автопоезда.
2. Только во время остановки или стоянки.
3. В обоих случаях.

69. Когда должна быть прекращена подача сигнала указателями поворота?

1. Непосредственно перед началом маневра.
2. Сразу же после завершения маневра.
3. В процессе выполнения маневра.

70. Для обеспечения безопасности при выезде задним ходом с места стоянки, имеющего ограниченную видимость, необходимо:

1. Прибегнуть к помощи других лиц.
2. Включить аварийную сигнализацию.
3. Подать звуковой сигнал.

71. В каких случаях на буксируемом механическом транспортном средстве должна быть включена аварийная световая сигнализация?

1. Только в темное время суток.
2. Во всех случаях, когда осуществляется буксировка.
3. Только в условиях недостаточной видимости.

72. При приближении к вершине подъема в темное время суток водителю рекомендуется переключить дальний свет на ближний:

1. Только при появлении встречного транспортного средства.
2. Всегда при приближении к вершине подъема.

73. Когда Вы должны включить указатели поворота?

1. Непосредственно перед поворотом или разворотом.
2. Заблаговременно до начала выполнения маневра.

3. По усмотрению водителя.

74. Когда Вы обязаны выключить левые указатели поворота, выполняя обгон?

1. После опережения обгоняемого транспортного средства.
2. По своему усмотрению.
3. Сразу же после перестроения на левую полосу.

75. Дневные ходовые огни предназначены для:

1. Улучшения видимости движущегося транспортного средства в светлое время суток только сзади.
2. Улучшения видимости движущегося транспортного средства в светлое время суток только спереди.
3. Улучшения видимости движущегося транспортного средства в светлое время суток как спереди, так и сзади.

76. Как Вы обязаны обозначить свое транспортное средство при дорожно-транспортном происшествии?

1. Только с помощью знака аварийной остановки.
2. Только с помощью аварийной световой сигнализации.
3. Обоиными перечисленными способами.

77. Должен ли водитель, остановившийся из-за неисправности, выставить знак аварийной остановки?

1. Должен, если неисправна аварийная световая сигнализация.
2. Должен во всех случаях.
3. Не должен.

78. Какими преимуществами в движении обладают транспортные средства, оборудованные проблесковыми маячками желтого, оранжевого и бело-лунного цветов, перед другими участниками?

1. Возможность отступать от некоторых положений Правил для обеспечения безопасности других участников дорожного движения.
2. Преимущественное право проезда, при равных условиях движения, для обеспечения безопасности других участников дорожного движения.

КОНТРОЛЬНЫЕ ВОПРОСЫ

по предмету «Психофизиологические основы деятельности водителя» для проведения теоретического этапа промежуточной и итоговой аттестации обучающихся

1. Как следует поступить водителю, если во время движения по сухой дороге с асфальтобетонным покрытием начал моросить дождь?

1. Уменьшить скорость и быть особенно осторожным.
2. Не изменяя скорости продолжить движение.
3. Увеличить скорость и попытаться проехать как можно большее расстояние, пока не начался сильный дождь.

2. При движении по какому участку дороги действие сильного бокового ветра наиболее опасно?

1. По открытому.
2. По закрытому деревьями.
3. При выезде с закрытого участка на открытый.

3. В темное время суток и в пасмурную погоду скорость встречного автомобиля воспринимается:

1. Ниже, чем в действительности.
2. Выше, чем в действительности.
3. Восприятие скорости не меняется.

4. Как влияет алкоголь на время реакции водителя?

1. Время реакции уменьшается.
2. Время реакции увеличивается.
3. Алкоголь на время реакции не влияет.

5. При движении в условиях плохой видимости нужно выбирать скорость, исходя из того, чтобы остановочный путь был:

1. Больше расстояния видимости.
2. Меньше расстояния видимости.

6. Вероятность возникновения аварийной ситуации при движении в плотном транспортном потоке будет меньше, если скорость Вашего транспортного средства:

1. Значительно меньше средней скорости потока.
2. Равна средней скорости потока.
3. Значительно больше средней скорости потока.

7. При движении в условиях тумана расстояние до предметов представляется:

1. Большим, чем в действительности.
2. Меньшим, чем в действительности.
3. Соответствующим действительности.


8. Каковы типичные признаки наступившего утомления водителя?

1. Возбужденность, раздражительность.
2. Головокружение, резь в глазах, повышенная потливость.
3. Сонливость, вялость, притупление внимания.

9. При приближении к вершине подъема в темное время суток водителю рекомендуется переключить дальний свет фар на ближний:

1. Только при появлении встречного транспортного средства.
2. Всегда при приближении к вершине подъема.

- 10. После длительного движения на безопасной дистанции за грузовым автомобилем у Вас появилась возможность совершить обгон. Ваши действия?**
1. Максимально приблизитесь к обгоняемому автомобилю, затем перестроитесь на полосу встречного движения и совершите маневр.
 2. Перестроитесь на полосу встречного движения, после чего произведете сближение с обгоняемым транспортным средством.
 3. Допустимы оба варианта действий.
- 11. При движении в плотном потоке Вы заметили сзади транспортное средство, движущееся на слишком малой дистанции. Как следует поступить, чтобы обеспечить безопасность движения?**
1. Предупредить следующего сзади водителя резким кратковременным торможением.
 2. Скорректировать скорость движения, ослабив нажатие на педаль газа, чтобы увеличить дистанцию до движущегося впереди транспортного средства.
 3. Увеличить скорость движения, уменьшив дистанцию до движущегося впереди автомобиля.
 4. Допускается любое из перечисленных действий.
- 12. Какое расстояние проедет транспортное средство за одну секунду при скорости движения около 70 км/ч?**
1. Примерно 30 м.
 2. Примерно 20 м.
 3. Примерно 10 м.
- 13. Какое расстояние проедет транспортное средство за одну секунду при скорости движения около 90 км/ч?**
1. Примерно 25 м.
 2. Примерно 35 м.
 3. Примерно 45 м.
- 14. Зависит ли выбор бокового интервала от скорости движения?**
1. При увеличении скорости движения боковой интервал необходимо увеличить.
 2. Выбор бокового интервала от скорости движения не зависит.
- 15. В каком из перечисленных случаев водителю следует оценивать обстановку сзади?**
1. Только при торможении на дороге с мокрым или скользким покрытием.
 2. Только при резком торможении.
 3. При любом торможении.
- 16. Как изменяется поле зрения водителя с увеличением скорости движения?**
1. Расширяется.
 2. Сужается.
 3. Не изменяется.
- 17. Что Вам следует иметь в виду, увидев впереди пешехода, переходящего проезжую часть?**
1. Что он может внезапно остановиться или отступит назад.



2. Что он может перейти дорогу, не меняя своего темпа движения, или ускориться.
3. Следует иметь в виду все вышеперечисленное.

18. В каком из перечисленных случаев длина пути обгона будет больше?

1. При скорости обгоняемого транспортного средства 70 км/ч и обгоняющего 90 км/ч.
2. При скорости обгоняемого транспортного средства 40 км/ч и обгоняющего 60 км/ч.
3. Длина пути обгона в обоих случаях будет одинакова.

19. В каком из перечисленных случаев время обгона будет больше?

1. При скорости обгоняемого транспортного средства 70 км/ч и обгоняющего 90 км/ч.
2. При скорости обгоняемого транспортного средства 40 км/ч и обгоняющего 60 км/ч.
3. Время обгона в обоих случаях будет одинакова.

20. Что следует предпринять водителю для увеличения поля зрения при движении?

1. Увеличить скорость движения
2. Снизить скорость движения

21. Принято считать, что среднее время реакции опытного водителя составляет:

1. 0,5 сек.
2. 1 сек.
3. 2 сек.

22. Принято считать, что среднее время реакции водителя с маленьким стажем управления транспортным средством составляет:

1. 0,5 сек.
2. 1 сек.
3. 1,5 сек.

23. Безопасной дистанцией при движении по сухой дороге на легковом автомобиле можно считать расстояние, которое автомобиль пройдет не менее чем за:


1. 2 сек.
2. 3 сек.
3. 4 сек.

24. Безопасной дистанцией при движении по сухой дороге на длинномерном транспортном средстве можно считать расстояние, которое автомобиль пройдет не менее чем за:

1. 2 сек.
2. 3 сек.
3. 4 сек.

25. Как следует поступить водителю, если во время приближения к регулируемому перекрестку на светофоре замигал зеленый сигнал светофора?

1. Увеличить скорость движения и проехать перекресток как можно быстрее.



2. Продолжить движение с прежней скоростью и при включении запрещающего сигнала светофора предпринять все меры для остановки транспортного средства.

3. Плавно снизить скорость и остановиться.

26. Как следует поступить водителю, если во время движения по дороге он видит, что обгоняющий автомобиль не успевает завершить маневр?

1. Увеличить скорость движения.

2. Продолжить движение с прежней скоростью.

3. Плавно снизить скорость и дать возможность водителю обгоняющего автомобиля вернуться на свою полосу.

27. Как следует поступить водителю, если при движении по главной дороге в плотном потоке водитель автомобиля на второстепенной дороге просит Вас пропустить его?

1. Продолжить движение с прежней скоростью пользуясь преимуществом в движении.

2. Ускориться и уменьшить дистанцию до впереди идущего автомобиля, чтобы водитель со второстепенной дороги не вклинился в поток.

3. Снизить скорость и пропустить автомобиль.

28. Как следует поступить водителю, если при движении по второстепенной дороге Вам дали возможность влиться в плотный поток главной дороги?

1. Остановиться и выйдя из автомобиля поблагодарить водителя, пропустившего Вас.

2. Включить аварийную сигнализацию и мигнуть 2-3 раза в знак благодарности.

29. Как следует поступить водителю, если во время движения по дороге Вы увидели на проезжей части посторонний предмет, представляющий опасность для движения?

1. Оценить обстановку вокруг своего автомобиля чтобы безопасно объехать опасный предмет.

2. Объехать посторонний предмет, лежащий на дороге.

3. Оценить обстановку на дороге и выбрав место для остановки остановиться и убрать посторонний предмет с проезжей части.

30. Как следует поступить водителю, если во время движения по дороге Вы увидели в зеркале заднего вида «шашечника», двигающегося на большой скорости?

1. Увеличить скорость движения и постараться оторваться от него.

2. Продолжить движение с прежней скоростью, усилить контроль за маневрами этого автомобиля.

3. Снизить скорость, по возможности занять правую полосу и отстать от такого водителя.

КОНТРОЛЬНЫЕ ВОПРОСЫ

по предмету «Основы управления ТС» для проведения теоретического этапа промежуточной и итоговой аттестации обучающихся

1. В каком случае легковой автомобиль более устойчив против опрокидывания на повороте?

1. Без груза и пассажиров.

2. С пассажирами, но без груза.

3. Без пассажиров, но с грузом на верхнем багажнике.

2. Для прекращения заноса, вызванного торможением, водитель в первую очередь должен:

1. Прекратить начатое торможение.
2. Выключить сцепление.
3. Продолжить торможение, не изменяя усилия на педаль тормоза.

3. Считаете ли Вы безопасным движение на грузовом автомобиле в темное время суток с ближним светом фар по неосвещенной с ближним светом фар по неосвещенной автомагистрали со скоростью 90 км/ч?

1. Да, так как предельная допустимая скорость соответствует требованиям Правил.
2. Нет, так как остановочный путь превышает расстояние видимости.

4. Что должен сделать водитель, чтобы быстро восстановить эффективность тормозов после проезда через водную преграду?

1. Продолжить движение, немного натянув рычаг ручного тормоза.
2. Продолжить движение и просушить тормозные колодки многократными непродолжительными нажатиями на педаль тормоза.
3. Продолжить движение с малой скоростью без притормаживания.

5. Как изменяется величина центробежной силы с увеличением скорости движения на повороте?

1. Не изменяется.
2. Увеличивается пропорционально скорости.
3. Увеличивается пропорционально квадрату скорости.

6. Как изменяется длина тормозного пути грузового автомобиля при буксировке автомобиля с неисправной тормозной системой?

1. Уменьшается, так как буксируемый автомобиль оказывает дополнительное сопротивление движению.
2. Увеличивается.
3. Не изменяется.


7. Как должен поступить водитель в случае потери сцепления колес с дорогой из-за образования «водяного клина»?

1. Увеличить скорость.
2. Снизить скорость резким нажатием на педаль тормоза.
3. Снизить скорость, применяя торможение двигателем.

8. Какие действия водителя приведут к уменьшению центробежной силы, возникающей на повороте?

1. Уменьшение радиуса прохождения поворота.
2. Увеличение скорости движения.
3. Уменьшение скорости движения.

9. В какую сторону смещается прицеп автопоезда на повороте?



1. Не смещается.
2. Смещается к центру поворота.
3. Смещается от центра поворота.

10. Как водитель должен воздействовать на педаль управления подачей топлива при возникновении заноса, вызванного резким ускорением движения?

1. Усилить нажатие на педаль.
2. Не менять положение педали.
3. Уменьшить нажатие на педаль.

11. Какой способ торможения позволит сохранить маневренность на скользкой дороге?

1. С полной блокировкой колес.
2. Торможение двигателем без блокировки колес.

12. Какой стиль вождения обеспечит наименьший расход топлива?

1. Частое и резкое ускорение при плавном замедлении.
2. Плавное ускорение при резком замедлении.
3. Плавное ускорение при плавном замедлении.

13. При движении на каком автомобиле увеличение скорости может способствовать устранению заноса задней оси?

1. На переднеприводном.
2. На заднеприводном.

14. На повороте возник занос задней оси заднеприводного автомобиля. Ваши действия?

1. Увеличить подачу топлива, рулевым колесом стабилизировать движение.
2. Притормозить и повернуть рулевое колесо в сторону заноса.
3. Слегка уменьшить подачу топлива и повернуть рулевое колесо в сторону заноса.
4. Значительно уменьшить подачу топлива, не меняя положения рулевого колеса.

15. Как правильно произвести экстренное торможение на скользкой дороге?

1. Выключив сцепление или передачу, плавно нажать на педаль тормоза до упора.
2. Не выключая сцепление и передачу, тормозить прерывистым нажатием на педаль тормоза.

16. Что подразумевается под остановочным путем?

1. Расстояние, пройденное транспортным средством с момента обнаружения водителем опасности до полной остановки.
2. Расстояние, соответствующее тормозному пути, определенному технической характеристикой данного транспортного средства.
3. Расстояние, пройденное транспортным средством с момента начала срабатывания тормозного привода до полной остановки.

17. Что подразумевается под временем реакции водителя?

1. Время с момента обнаружения водителем опасности до полной остановки транспортного средства.
2. Время, необходимое для переноса ноги с педали подачи топлива на педаль тормоза.
3. Время с момента обнаружения водителем опасности до начала принятия мер по ее избежанию.

18. На повороте возник занос задней оси переднеприводного автомобиля. Ваши действия?

1. Значительно увеличите подачу топлива, не меняя положения рулевого колеса.
2. Слегка увеличите подачу топлива, корректируя направление движения рулевым колесом.
3. Притормозите и повернете рулевое колесо в сторону заноса.
4. Уменьшите подачу топлива, рулевым колесом стабилизируете движение.

19. В случае, когда правые колеса автомобиля наезжают на неукрепленную влажную обочину, рекомендуется:

1. Затормозить и плавно направить автомобиль в левую сторону.
2. Не прибегая к торможению, плавно вернуть автомобиль на проезжую часть.
3. Затормозить и полностью остановиться.

20. Что следует предпринять водителю для предотвращения опасных последствий заноса автомобиля при резком повороте рулевого колеса на скользкой дороге?

1. Нажать на педаль тормоза.
2. Быстро, но плавно повернуть рулевое колесо в сторону заноса, затем опережающим воздействием на рулевое колесо выровнять траекторию движения автомобиля.
3. Выключить сцепление.

21. Двигаться по глубокому снегу на грунтовой дороге следует:

1. Изменяя скорость движения и передачу в зависимости от состояния дороги.
2. На заранее выбранной пониженной передаче, без резких поворотов и остановок.

22. Двигаясь в прямом направлении со скоростью 60 км/ч, Вы внезапно попали на небольшой участок скользкой дороги. Что следует предпринять?

1. Не менять траектории и скорости движения.
2. Плавно затормозить.

23. При торможении двигателем на крутом спуске водитель должен выбирать передачу, исходя из условий:

1. Выбор передачи не зависит от крутизны спуска.
2. Чем круче спуск, тем выше передача.
3. Чем круче спуск, тем ниже передача.

24. В какой момент следует начинать отпускать стояночный тормоз при трогании на подъеме?

1. Одновременно с началом движения.
2. После начала движения.
3. До начала движения.

25. Уменьшение тормозного пути транспортного средства достигается:

1. Торможением с блокировкой колес (юзом).
2. Торможением на грани блокировки способом прерывистого нажатия на педаль тормоза.

26. Чем опасно длительное торможение с выключенным сцеплением (передачей) на крутом спуске?

1. Повышается износ деталей тормозных механизмов.
2. Перегреваются тормозные механизмы и уменьшается эффективность торможения.
3. Значительно увеличивается износ протектора шин.

27. Как влияет длительный разгон транспортного средства с включенной первой передачей на расход топлива?

1. Расход топлива не изменяется.
2. Расход топлива увеличивается.
3. Расход топлива уменьшается.

28. Исключает ли антиблокировочная система (АБС) возможность возникновения заноса или сноса при прохождении поворота?

1. Полностью исключает возникновение только сноса.
2. Полностью исключает возникновение только заноса.
3. Не исключает возможности возникновения сноса или заноса.

29. Что следует сделать водителю, чтобы предотвратить возникновение заноса при проезде крутого поворота?

1. Перед поворотом снизить скорость, при необходимости включить понижающую передачу, а при проезде поворота резко не увеличивать скорость и не тормозить.
2. Перед поворотом снизить скорость и выжать педаль сцепления, чтобы дать возможность автомобилю двигаться накатом на повороте.
3. Допускается любое из перечисленных действий.

30. Какие преимущества дает Вам использование зимних шин в холодное время года?

1. Появление возможности в любых погодных условиях двигаться с максимально допустимой скоростью.
2. Уменьшение возможности проскальзывания и пробуксовки колес на скользком покрытии.
3. Исключение возможности возникновения заноса.

31. Уменьшение тормозного пути автомобиля при наличии антиблокировочной системы (АБС) достигается?

1. Торможением на грани блокировки способом прерывистого нажатия на педаль тормоза.
2. Нажатием на педаль тормоза и удержанием ее в таком положении.

32. Что называется тормозным путем?

1. Расстояние, пройденное автомобилем с момента обнаружения водителем опасности до полной остановки транспортного средства.
2. Расстояние, пройденное автомобилем за время переноса ноги с педали подачи топлива на педаль тормоза.

3. Расстояние, пройденное автомобилем с момента начала торможения до полной остановки транспортного средства.

33. Остановочный путь, это:

1. Расстояние, соответствующее тормозному пути, определенному технической характеристикой данного транспортного средства.

2. Расстояние, пройденное транспортным средством за время обнаружения водителем опасности, время, необходимое для переноса ноги с педали подачи топлива на педаль тормоза и время с момента начала срабатывания тормозного привода до полной остановки.

3. Расстояние, пройденное транспортным средством за время, необходимое для переноса ноги с педали подачи топлива на педаль тормоза и время с момента начала срабатывания тормозного привода до полной остановки.

33. Безопасная дистанция, это:

1. Расстояние, пройденное транспортным средством за время обнаружения водителем опасности.

2. Расстояние, пройденное транспортным средством за время обнаружения водителем опасности, время, необходимое для переноса ноги с педали подачи топлива на педаль тормоза и время с момента начала срабатывания тормозного привода до полной остановки.

3. Расстояние, пройденное транспортным средством за время обнаружения водителем опасности и за время, необходимое для переноса ноги с педали подачи топлива на педаль тормоза.

34. Каким главным критериям должна отвечать посадка водителя?

1. Готовность к экстренным действиям.

2. Удобство и комфорт.

3. Сохранение работоспособности водителя.

35. Изменяется ли посадка в зависимости от типа привода на ведущие колеса?

1. Не изменяется.

2. Изменяется.

КОНТРОЛЬНЫЕ ВОПРОСЫ

по предмету «Первая помощь при дорожно-транспортном происшествии» для проведения теоретического этапа промежуточной и итоговой аттестации обучающихся

1. Какие сведения необходимо сообщать диспетчеру при вызове «Скорой помощи» при ДТП?

1. Указать общеизвестные ориентиры, ближайšie к месту ДТП. Сообщить о количестве пострадавших, указать их пол и возраст.

2. Указать улицу и номер дома, ближайšie к месту ДТП. Сообщить кто пострадал в ДТП (пешеход, водитель автомобиля или пассажиры), и описать травмы, которые они получили.

3. Указать точное место совершения ДТП (назвать улицу и номер дома, и общеизвестные ориентиры, ближайšie к месту ДТП). Сообщить о количестве пострадавших, их пол, примерный возраст и о наличии у них признаков жизни, а также сильного кровотечения.

2.Как следует расположить руки на грудной клетке пострадавшего при выполнении непрямого массажа сердца?

- 1.Основание ладоней обеих рук должны располагаться на грудной клетке на два пальца выше мечевидного отростка так, чтобы большой палец одной руки указывал в сторону левого плеча пострадавшего, а другой - в сторону правого плеча.
- 2.Основание ладоней обеих рук, которые накладываются одна на другую, должны располагаться на груди на два пальца выше мечевидного отростка так, чтобы большой палец одной руки указывал в сторону подбородка пострадавшего, а другой – в сторону живота.
- 3.Непрямой массаж сердца выполняем основанием ладони только одной руки, расположенной на грудной клетке на два пальца выше мечевидного отростка. Направление большого пальца значение не имеет.

3.В чем заключается первая помощь пострадавшему, находящемуся в сознании, при повреждении позвоночника?

- 1.Уложить пострадавшего на бок.
- 2.Лежащего пострадавшего не перемещать. Следует наложить ему на шею импровизированную шейную шину, не изменяя положения шеи и тела.
- 3.Пострадавшему, лежащему на спине, подложить под шею валик из одежды и приподнять ноги.

4.При открытом переломе конечности, сопровождающемся кровотечением, первую помощь начинают:

- 1.С наложения импровизированной шины.
- 2.С наложения жгута выше раны на месте перелома.
3. С наложения давящей повязки.

5.Какова первая помощь при травме волосистой части головы?

- 1.Наложить импровизированную шейную шину. К ране волосистой части головы приложить давящую повязку из стерильного бинта, пострадавшего уложить на бок с согнутыми в коленях ногами, к голове приложить холод.
- 2.Наложить импровизированную шейную шину, на рану наложить стерильный ватный тампон, пострадавшего уложить на спину, приподняв ноги. К голове приложить холод.
- 3.Шейную шину не накладывать, рану заклеить медицинским лейкопластырем, уложить пострадавшего на бок только в случае потери им сознания.

6.При потере пострадавшим сознание и наличия пульса на сонной артерии для оказания первой помощи его надо уложить:

- 1.На спину с подложенным под голову валиком.
- 2.На спину с вытянутыми ногами.
- 3.На бок так, чтобы согнутые колени опирались о землю, а верхняя рука находилась под щекой.

7.На какой срок может быть наложен кровоостанавливающий жгут?

- 1.Не более получаса в теплое время года и не более часа в холодное время года.
- 2.Не более часа в теплое время года и не более получаса в холодное время года.
- 3.Время не ограничено.

8. О каких травмах пострадавшего может свидетельствовать пола «лягушки» (ноги согнуты в коленях и разведены, а стопы развернуты подошвами друг к другу) и какую первую помощь необходимо при этом оказать?

1. У пострадавшего могут быть ушиб брюшной стенки, перелом лодыжки, перелом костей стопы. При первой помощи вытянуть ноги, наложить шины на обе ноги от голеностопного сустава до подмышки.

2. У пострадавшего могут быть перелом шейки бедра, костей таза, перелом позвоночника, повреждение внутренних органов малого таза, внутренне кровотечение. Позу ему не менять, ноги не вытягивать, шины не накладывать. При первой помощи подложить под колени валик из мягкой ткани, к животу при возможности приложить холод.

3. У пострадавшего могут быть перелом костей голени и нижней трети бедра. При первой помощи наложить шины только на травмированную ногу от голеностопного до коленного сустава, не вытягивая ногу.

9. Как определить наличие пульса на сонной артерии пострадавшего?

1. Три пальца руки располагаются с левой стороны шеи под нижней челюстью.

2. Три пальца руки располагаются с правой или левой стороны шеи под нижней челюстью на уровне щитовидного хряща гортани (кадыка) и осторожно продвигают вглубь шеи между щитовидным хрящом и ближайшей к хрящу мышцей.

3. Большой палец руки располагается на шее под подбородком гортани, а остальные пальцы – с другой стороны.

10. Когда следует проводить СЛР пострадавшему?

1. При потере пострадавшим сознания, независимо от наличия пульса на сонной артерии и дыхания.

2. При потере пострадавшим сознания и отсутствии пульса, а также признаков дыхания.

11. Что необходимо сделать для извлечения инородного тела, попавшего в дыхательные пути пострадавшего?

1. Уложить пострадавшего на свое колено лицом вниз и ударить кулаком по спине несколько раз.

2. Вызвать рвоту, надавив на корень языка. При отрицательном результате ударить ребром ладони по спине пострадавшего, либо встать спереди и сильно надавить кулаком на его живот.

3. Ударить несколько раз ладонью по спине пострадавшего. При отрицательном результате встать сзади, обхватить его обеими руками на уровне нижних ребер, сцепить свои руки в кулак, одновременно сдавить его ребра и резко надавить на область живота кулаком в направлении внутрь и вверх.

12. Каковы признаки кровотечения из крупной артерии и первая помощь при ее ранении?

1. Одежда быстро пропитывается кровью, кровь темного цвета вытекает из раны пассивно. Накладывается давящая повязка на место ранения.

2. Одежда пропитана кровью, кровь алого цвета вытекает из раны пульсирующей струей. Накладывается кровоостанавливающий жгут выше места ранения не менее чем на 3-5 см.

3. Одежда пропитывается кровью только в месте ранения (цвет крови не имеет значения), кровь вытекает из раны пассивно. Накладывается кровоостанавливающий жгут ниже места ранения не менее чем на 3-5 см.

13. Разрешено ли давать пострадавшему, находящемуся в бессознательном состоянии, лекарственные средства?

1. Разрешено.
1. Разрешено в случае крайней необходимости.
3. Запрещено.

14. Как остановить кровотечение при ранении вены и некрупных артерий?

1. Наложить давящую повязку на место ранения.
2. Наложить жгут выше места ранения
3. Наложить жгут ниже места ранения

15. Каким образом оказать первую помощь при ранении, полученном в результате ДТП?

1. Промыть рану водой, удалить инородные тела, попавшие в рану, приложить стерильную вату, закрепив ее бинтовой повязкой.
2. Надеть медицинские перчатки, рану промыть спиртовым раствором йода, смазать лечебной мазью и закленить сплошным лейкопластырем.
3. Надеть медицинские перчатки, рану не промывать, на рану наложить марлевую стерильную салфетку, закрепив ее лейкопластырем по краям или бинтовой повязкой.

16. Как обеспечить восстановление и поддержание проходимости дыхательных путей пострадавшего при подготовке к проведению СЛР?

1. Очистить ротовую полость от слизи и рвотных масс. Уложить пострадавшего на спину, запрокинуть ему голову, поднять подбородок и выдвинуть нижнюю челюсть.
2. Уложить пострадавшего на бок, наклонить голову к груди. Очистить ротовую полость от слизи рвотных масс.
3. Уложить пострадавшего на спину и, не запрокидывая ему голову сжать щеки, чтобы раздвинуть губы и раскрыть рот. Очистить ротовую полость от слизи рвотных масс.

17. Каким образом проводить СЛР пострадавшего?

1. Искусственная вентиляция легких и непрямой массаж сердца: в начале один вдох методом «рот в рот», затем пятнадцать надавливаний на грудину.
2. Непрямой массаж сердца и искусственная вентиляция легких: вначале пять надавливаний на грудину, затем один вдох методом «рот в рот».
3. Непрямой массаж сердца и искусственная вентиляция легких: вначале тридцать надавливаний на грудину, затем два вдоха методом «рот в рот».

18. Как оказывается первая помощь при переломах конечностей, если отсутствуют транспортные шины и подручные средства для их изготовления?

1. Верхнюю конечность, вытянуть вдоль тела, прибинтовать к туловищу. Нижние конечности прибинтовать друг к другу, проложив между ними мягкую ткань.
2. Верхнюю конечность, согнутую в локте, подвешивают на косынке и прибинтовывают к туловищу. Нижние конечности прибинтовать друг к другу, обязательно проложить между ними мягкую ткань.
3. Верхнюю конечность, согнуть в локте, подвесить на косынке и прибинтовать к туловищу. Нижние конечности плотно прижимать друг к другу и прибинтовать.

19. В каких случаях пострадавшего извлекают из салона автомобиля?

1. Всегда при потере потерпевшим сознания.
2. Всегда при потере потерпевшим сознания и отсутствии у него пульса на сонной артерии и признаков дыхания.
3. При переломах нижних конечностях.

20. Какова первая помощь при наличии признаков термического ожога второй степени (покраснение и отек кожи, образование на месте ожога пузырей, наполненных жидкостью, сильная боль)?

1. Полить ожоговую поверхность холодной водой, смазать спиртовой настойкой йода, накрыть стерильной салфеткой и туго забинтовать. Дать болеутоляющее средство из индивидуальной аптечки.
2. Вскрыть пузыри, очистить ожоговую поверхность от остатков одежды, накрыть стерильной салфеткой (не бинтовать), приложить холод, поить пострадавшего водой.
3. Пузыри не вскрывать, остатки одежды не удалять с обожженной поверхности не удалять, рану накрыть стерильной салфеткой (не бинтовать), приложить холод, дать болеутоляющее средство из индивидуальной аптечки (при отсутствии аллергии на него) и поить пострадавшего водой.

КОНТРОЛЬНЫЕ ВОПРОСЫ

по предмету «Устройство и техническое обслуживание транспортных средств категории "В" как объектов управления» для проведения теоретического этапа промежуточной и итоговой аттестации обучающихся

1. Какую функцию выполняет АКБ на автомобиле?

1. Питает стартер при пуске двигателя, и все потребители электрического тока при неработающем двигателе.
2. Регулирует напряжение в бортовой сети автомобиля.
3. Питает потребители электрического тока во время работы двигателя.

2. Каким прибором измеряется плотность электролита?

1. Динамометром
2. Мегаомметром
3. Тензомером
4. Ареометром

3. Какую функцию на автомобиле выполняет генератор переменного тока?

1. Преобразует химическую энергию в электрическую.
2. Преобразует электрическую энергию в механическую работу.
3. Преобразует механическую энергию двигателя в электрическую.

4. Какой из приборов контролирует зарядный режим АКБ?

1. Термометр

2. Амперметр
3. Манометр
4. Тахометр

5. В каком из тактов происходит воспламенение горючей смеси?

1. Впуск
2. Сжатие
3. Рабочий ход
4. Выпуск

6. Что такое горючая смесь?

1. Смесь топлива и воздуха с остатками отработавших газов.
2. Смесь дизельного топлива и бензина
3. Смесь топлива и воздуха.
4. Смесь воздуха и отработавших газов

7. Какой из этих механизмов управляет работой клапанов, что позволяет в определенные моменты впускать воздух или горючую смесь в цилиндры, сжимать ее и удалять отработавшие газы??

1. Кривошипно-шатунный
2. Червячный механизм
3. Уравновешивающий
4. Газораспределительный

8. Что такое камера сгорания?

1. Пространство, освобождаемое поршнем при перемещении из ВМТ к НМТ.
2. Расстояние, пройденное поршнем от одной мертвой точки до другой.
3. Пространство между головкой цилиндра и поршнем, расположенным в ВМТ

9. Какой из перечисленных приборов впрыскивает и распыляет топливо по объему камеры сгорания?

1. Карбюратор
2. Топливный насос высокого давления
3. Топливоподкачивающий насос
4. Форсунка

10. Какую функцию выполняет радиатор в системе охлаждения?

1. Регулирует давление в системе.
2. Повышает давление масла.
3. Охлаждает антифриз.
4. Дополнительно очищает антифриз от механических примесей.

11. При приготовлении электролита для АКБ следует?

1. Доливать воду в кислоту

- 2.Долливать кислоту в воду
- 3.Возможны оба варианта

12. Рубашка охлаждения ДВС находится в ...

- 1.радиаторе
- 2.жидкостном насосе
- 3.термостате
- 4.блоке

13. Термостат служит для?

- 1.Для подачи охлаждающей жидкости в радиатор
- 2.Для автоматической регулировки температуры охлаждающей жидкости
- 3.Для охлаждения охлаждающей жидкости в СО
- 4.Для включения вентилятора при повышении температуры охлаждающей жидкости

14. Люфт рулевого колеса легкового автомобиля не должен превышать?

1.	2.	3.	4.
10	15	20	25

15. Уровень электролита в АКБ должен быть на мм выше пластин.

- 1.на 5 мм
- 2.на 10-15 мм
- 3.на 20-25 мм
- 4.на 25-30 мм

16. На сколько процентов допустим разряд АКБ?

1. Летом до 25%, зимой до 10%
2. Летом до 40%, зимой до 20%
3. Летом до 50%, зимой до 25%

17. Чем определяется уровень электролита в АКБ?

- 1.Ареометром
- 2.Стеклянной трубкой
- 3.Нагрузочной вилкой

18. Как необходимо поступить при попадании электролита на кожу?

- 1.Наложить стерильную повязку, затем обратиться к врачу.
- 2.Осторожно снять электролит ватным тампоном, промыть это место струей воды, а затем 10% раствором питьевой соды
- 3.Промыть керосином или бензином, наложить стерильную повязку и обратиться к врачу.

19. На какую неисправность указывают «Хлопки в карбюраторе»?

1. Не плотное закрытие впускных клапанов, засорение топливных жиклеров, установлено раннее зажигание.
2. Засорение воздушных жиклеров, установлено позднее зажигание.
3. Неправильно установлен зазор между контактами прерывателя.

20. Назовите причину повышенной «дымности» отработанных газов?

1. Наличие накипи в системе охлаждения двигателя.
2. Наличие неисправностей в топливной аппаратуре двигателя.
3. Наличие трещин или засорение глушителя.

21. Что понимается под активной безопасностью?

1. Эксплуатационные свойства комплекса, которые направлены на предотвращения ДТП;
2. Эксплуатационные свойства комплекса водитель - автомобиль - дорога - среда движения (ВАДС), предотвращающие или максимально снижающие степень тяжести травм участников движения при невозможности предотвратить происшествия;
3. Эксплуатационные свойства комплекса, которые направлены на предотвращение тяжести ДТП.

22. Элементы комплекса учения о безопасности?

1. Водитель - автомобиль - среда движения;
2. Автомобиль - дорога - среда движения;
3. Водитель - автомобиль - экология;
4. Водитель - автомобиль - дорога - среда движения.

23. К внешней пассивной безопасности автомобиля относится:

1. Отсутствие остро выступающих предметов внутри кузова;
2. Устойчивость и тяговая динамичность;
3. Безопасные ветровые стекла, панель приборов, рулевое колесо и рулевая колонка;
4. Дверные замки, а также конструкции, обеспечивающие снижение до безопасных пределов резких замедлений, перегрузок, возникающих при столкновениях и наездах на препятствия; безопасные бамперы, формы кузова, отсутствие внешних островыступающих предметов.

24. Сколько противотуманных фар устанавливается на транспортные средства?

1. Одна
2. Одна или две
3. Две

25. Сколько противотуманных фар устанавливается на легковом автомобиле?

1. Одна
2. Одна или две
3. Две



КОНТРОЛЬНЫЕ ВОПРОСЫ по предмету «Организация и выполнение грузовых перевозок автомобильным транспортом» для проведения теоретического этапа промежуточной и итоговой аттестации обучающихся

1. Разрешенная максимальная масса — это:

1. Масса груза, установленная предприятием-изготовителем в качестве максимально допустимой.
2. Масса транспортного средства с грузом, установленная предприятием-изготовителем в качестве максимально допустимой.
3. Масса снаряженного транспортного средства с грузом, водителем и пассажирами, установленная предприятием-изготовителем в качестве максимально допустимой.

2. Чем ограничена масса перевозимого груза?

1. Вместимостью салона или кузова.
2. Допустимой нагрузкой на шины.
3. Величинами, установленными предприятием-изготовителем для данного транспортного средства.
4. Мощностью двигателя.

3. Когда водитель обязан контролировать размещение, крепление и состояние груза?

1. Перед началом и во время движения.
2. Только перед началом движения.
3. Только во время движения.
4. По своему усмотрению.

4. Допускается ли перевозка груза, если он ограничивает обзор водителю?

1. Допускается только при наличии зеркал заднего вида с обеих сторон транспортного средства.
2. Допускается с соблюдением дополнительных мер предосторожности.
3. Не допускается.

5. Допускается ли перевозка груза, если он затрудняет управление или нарушает устойчивость транспортного средства?

1. Не допускается.
2. Допускается только при движении со скоростью не более 30 км/ч.
3. Допускается с соблюдением дополнительных мер предосторожности.

6. Допускается ли перевозка груза, если он закрывает фонарь освещения регистрационного знака?

1. Допускается.
2. Не допускается.

7. Если в поездке груз стал закрывать внешние световые приборы автомобиля и нет возможности устранить это нарушение, водитель должен:

1. Продолжить движение только до места стоянки с соблюдением необходимых мер предосторожности.
2. Продолжить движение со скоростью не более 30 км/ч.

3. Прекратить дальнейшее движение.

8. В каком случае допускается перевозка груза?

1. Груз издает шум.
2. Груз загрязняет дорогу.
3. Груз ограничивает обзор пассажиру.

9. Требуется ли обозначать груз, выступающий за габариты легкового автомобиля сбоку на 0,3 м?

1. Требуется.
2. Не требуется.
3. Требуется только в темное время суток.

10. Как должен быть обозначен груз, выступающий за габариты транспортного средства спереди или сзади более чем на 1 м, в светлое время суток?

1. Оповестительными знаками «Прочие опасности».
2. Оповестительными знаками «Крупногабаритный груз».
3. Спереди фонарем белого цвета, а сзади — фонарем красного цвета.
4. Спереди световозвращателем белого цвета, сзади — световозвращателем красного цвета.

11. Как должен быть обозначен груз, выступающий за габариты транспортного средства спереди или сзади более чем на 1 м, в темное время суток?

1. Оповестительными знаками «Прочие опасности».
2. Спереди фонарем белого цвета, а сзади — фонарем красного цвета.
3. Спереди световозвращателем белого цвета, сзади — световозвращателем красного цвета.
4. Оповестительными знаками «Крупногабаритный груз», а также фонарями или световозвращателями (спереди — белого, а сзади — красного цвета).

12. Какой из трех опознавательных знаков называется «Крупногабаритный груз»?

1. Знак А.
2. Знак Б.
3. Знак В.



А



Б



В

13. Фонарем или световозвращателем какого цвета должен быть обозначен груз, выступающий за габариты транспортного средства сбоку более чем на 0,4 м, в темное время суток или в условиях недостаточной видимости?

1. Спереди белого цвета, а сзади — красного цвета.
2. Спереди желтого цвета, а сзади — красного цвета.

14. В каком из перечисленных случаев движение транспортного средства с грузом должно осуществляться в соответствии со специальными правилами?

1. Груз выступает за заднюю точку габарита транспортного средства более чем на 2 м.

2. Груз выступает за заднюю точку габарита транспортного средства более чем на 2,55 м.

15. Разрешается ли водителю транспортного средства, перевозящего крупногабаритный груз с включенным проблесковым маячком желтого или оранжевого цвета, отступать от требований дорожной разметки?

1. Разрешается во всех случаях.
2. Не разрешается.
3. Разрешается при условии обеспечения безопасности дорожного движения.

16. В каком случае запрещается движение транспортного средства?

1. Нарушена герметичность системы вентиляции картера двигателя.
2. При неисправности сцепного устройства в составе автопоезда.
3. Неисправен или отсутствует предусмотренный конструкцией усилитель рулевого управления.

17. Водители, имеющие право на управление транспортными средствами категории «В», «С» или «Д», могут управлять ими также при наличии прицепа, разрешенная максимальная масса которого не превышает:

1. 500 кг.
2. 750 кг.
3. 1000 кг.

18. Как влияет движение с прицепом без тормозной системы на длину тормозного пути автомобиля?

1. длина тормозного пути увеличивается;
2. никак не влияет;
3. длина тормозного пути уменьшается из-за дополнительного сопротивления движению, которое оказывает прицеп.

19. На повороте происходит смещение прицепа автопоезда:

1. не происходит никакого смещения;
2. к центру поворота;
3. от центра поворота

20. Устойчивость автомобиля – это:

1. качество автомобиля, характеризующееся величиной наименьшего радиуса поворота и габаритами автомобиля;
2. способность противостоять заносу и опрокидыванию в различных дорожных условиях и при высоких скоростях движения;
3. это эксплуатационное свойство автомобиля, позволяющее водителю управлять автомобилем при наименьших затратах психической и физической энергии, при совершении маневров в плане для сохранения или задания направления движения.

КОНТРОЛЬНЫЕ ВОПРОСЫ

по предмету «Организация и выполнение пассажирских перевозок автомобильным